




## 2 なんばんめ②


ね ん		く み		な ま え	
--------	--	--------	--	-------------	--

1 えを せんで かこみましよう。

(1) まえから 5ひき



(2) まえから 5ひきめ



2 えを せんで かこみましよう。

(1) まえから 4ばんめ



(2) まえから 5ばんめ




(3) うしろから 3ばんめ



(4) うしろから 5ばんめ



3 もんだいに 答えましょう。



(1) ひよこは ひだりから なんばんめに いますか。

( ) ばんめ

(2) かぶとむしは みぎから なんばんめに いますか。

( ) ばんめ

(3) ひだりから 3ばんめに いるものは なんですか。

( )

(4) みぎから 6ばんめに いるものは なんですか。

( )