





1 なかまづくりと かず②

ね ん		く み		な ま え	
--------	--	--------	--	-------------	--


1 まえと うしろを あわせると いくつになりますか。□に あう かずを かきましょう。




と




で




と



で



と



で






と



で

2 あと いくつで 8 に なりますか。



3 あと いくつで 10 に なりますか。□の なかに かずを かきましょう。

(れい) と で

(1) と で

(2) と で

4 □に あてはまる かずを かきましょう。

(1) 9は 2と を あわせた かず です。

(2) と 1を あわせると 7に なります。