

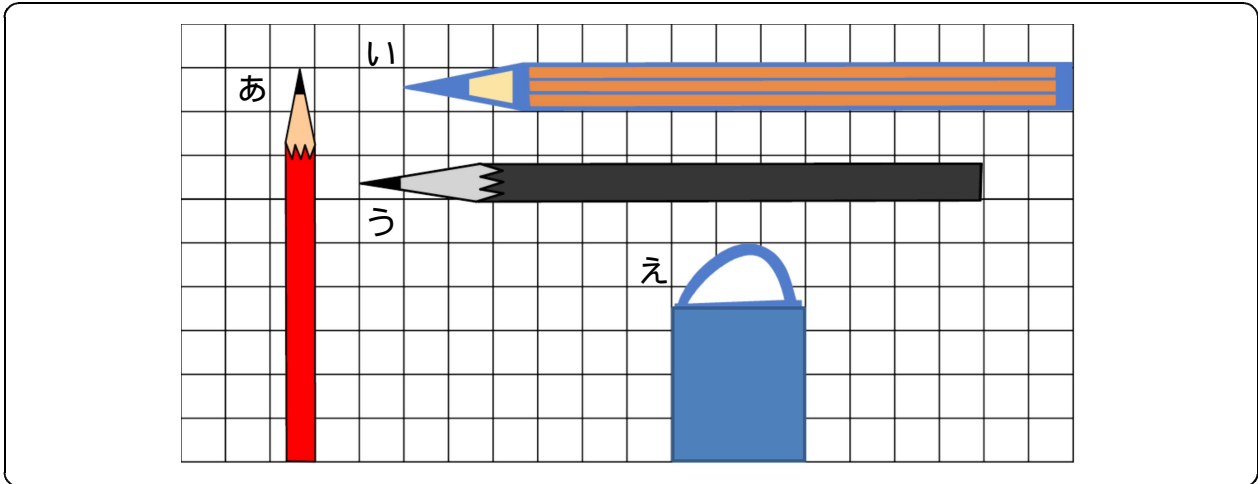
たしかめもんだい 2

ねん

くみ

なまえ

1 ながさを しらべましょう。



(1) あ , い , う , え の ながさは ますで いくつぶんですか。

あは ますの 9 つ ぶんの ながさ。

いは ますの 15 こ ぶんの ながさ。

うは ますの 14 こ ぶんの ながさ。

えは ますの 5 つ ぶんの ながさ。

(2) いと うの ながさを くらべます。

どちらが なんます ぶん ながい ですか。

(しき) $15 - 14 = 1$

【ポイント】
・「～が...よりいくつ分長い」の
表現で答えがかいている。

(こたえ) いが うより 1ますぶん ながい。

2 もんだいに こたえましょう。

りんごが 8つ あります。 2つ たべました。 そのあと、
ともだちに 1つ あげました。 りんごは いくつに なりましたか。

1つの しきに して こたえを かきましょう。

(しき) $8 - 2 - 1 = 5$

(こたえ) 5こ

3 もんだいに こたえましょう。

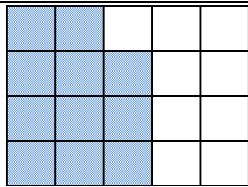
$9 - 5 + 3$ のしきに なるような もんだいを つくりましょう。

れい) 9にんで あそんで いました。 5にん かえりました。


そのあと 3にん きました。 ぜんいんで なんにん ですか。

【ポイント】・ 9から5をひいて、3をたすという順番になる問題をつくっている。

4 ひろさを くらべましょう。



みのるさん



まちこさん

*いろが ついている ところが
じぶんの ひろさです。

(1) ますの かずで いくつぶん ですか。

みのるさんは ますの 11こ ぶんの ひろさ。

まちこさんは ますの 9つ ぶんの ひろさ。

(2) どちらが なんます ぶん ひろいですか。

(しき) $11 - 9 = 2$

【ポイント】

・「～が...よりいくつ分広い」の
表現で答えをかいている。

(こたえ) みのるさんは まちこさんより 2ますぶん ひろい。