



たしかめもんだい 1

ねん


くみ

なまえ

1 ばすと とらっくの えを みて かんがえましょう。

 は  より なんだい おおいですか。

こたえは 「～は・・・より なんだい おおい」の かきかたで かきましょう。



(しき) $9 - 7 = 2$

【ポイント】

・「～は・・・より何台多い」の表現で 答えがかかれています。

(こたえ) ばすは とらっくより 2だい おおい。

2 $7 - 3 = 4$ の しきに なる おはなしを かきましょう。。

おはなしと えを かきましょう。

おはなし

例 7にんで あそんでいます。3にんが かえりました。

のこりは 4にんに になりました。

え

省略


【ポイント】

・お話と絵が関連して、かかれています。

3 とまとの かずを ようびごとに まとめます。

○わかること

げつ か すい・もく・きん



○ひんと

すい・・・げつ よりも 2こ おおい。

もく・・・か よりも 2こ おおい。

きん・・・すい よりも 3こ おおい。

(1) とまとの かずを もとめます。しきと こたえを かきましょう。

すいようび

(しき) $3 + 2 = 5$

(こたえ) 5こ

もくようび

(しき) $4 + 2 = 6$

(こたえ) 6こ

きんようび

(しき) $5 + 3 = 8$

(こたえ) 8こ

(2) とまとの かずの ぶんだけ いろを ぬりましょう。

<input type="radio"/>	<input type="radio"/>	<input type="radio"/>	<input type="radio"/>	<input checked="" type="radio"/>
<input type="radio"/>	<input type="radio"/>	<input type="radio"/>	<input type="radio"/>	<input checked="" type="radio"/>
<input type="radio"/>	<input type="radio"/>	<input type="radio"/>	<input checked="" type="radio"/>	<input checked="" type="radio"/>
<input type="radio"/>	<input type="radio"/>	<input checked="" type="radio"/>	<input checked="" type="radio"/>	<input checked="" type="radio"/>
<input type="radio"/>	<input checked="" type="radio"/>	<input checked="" type="radio"/>	<input checked="" type="radio"/>	<input checked="" type="radio"/>
<input checked="" type="radio"/>	<input checked="" type="radio"/>	<input checked="" type="radio"/>	<input checked="" type="radio"/>	<input checked="" type="radio"/>
<input checked="" type="radio"/>	<input checked="" type="radio"/>	<input checked="" type="radio"/>	<input checked="" type="radio"/>	<input checked="" type="radio"/>
<input checked="" type="radio"/>	<input checked="" type="radio"/>	<input checked="" type="radio"/>	<input checked="" type="radio"/>	<input checked="" type="radio"/>
げつ	か	すい	もく	きん

いろを ぬるときは
したから じゅんに
ぬりましょう。