

のこりは いくつ ちがいは いくつ

ねん


くみ

なまえ

1 もんだいに こたえましょう。

いちごが 8こ あります。 ももが 6こ あります。
いちごは ももより なんこ おおいでしょうか。

(1) いちごと ももを せんで むすびましょう。





(2) しきと こたえを かきましょう。こたえは 「～は …より
なんこ おおい」 のかきかたで かきましょう。

(しき) $8 - 6 = 2$

(こたえ) いちごは ももより 2こ おおい。

2 かずを かぞえて もんだいに こたえましょう。

 は  より なんひき おおいでしょうか。しきと こたえ
をかきましょう。こたえは 「～は …より なんひき おおい」 の
かきかたで かきましょう。



(しき) $7 - 4 = 3$

(こたえ) いぬは ねこより 3ひき おおい。

◎みじかな ことや ものを つかって もんだいづくりを しても たのしいね。