

17 たしざんとひきざん2					
ねん		くみ		なまえ	

- 1 るみさんは ゆうえんちに いきました。  
 コーヒーカップに のるのに なんにんか ならんでいます。  
 るみさんは、まえから 3にんめに います。るみさんの  
 うしろに 4にん います。  
 みんなで なんにん ならん で いますか。

[まえ] ● ● ○ ● ● ● ● [うしろ]



るみさん

し き

$3 + 4 = 7$
-------------

こたえ

7にん
-----

- 2 ジェットコースターに 15にん のっています。  
 りつこさんは、まえから 7にんめに います。  
 りつこさんの うしろに なんにん いますか。

[まえ] ● ● ● ● ● ● ○ ◎ ◎ ◎ ◎ ◎ ◎ ◎ ◎ [うしろ]



りつこさん


し き

$15 - 7 = 8$
--------------

こたえ

8にん
-----

- 3 3にんが 1こずつ バッジを つけています。バッジは あと  
 4こ あります。  
 バッジは、ぜんぶで いくつ ありますか。



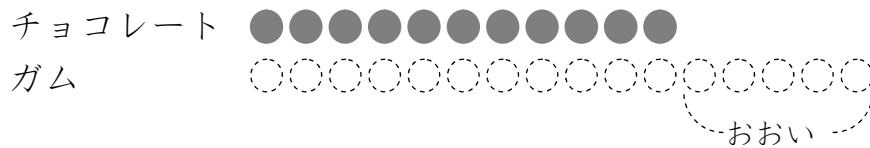
し き

$3 + 4 = 7$
-------------

こたえ

7こ
----

- 4 チョコレートを 11こ かいました。ガムは、  
チョコレートより 5こ おおく かいました。  
ガムは、なんこ かいましたか。



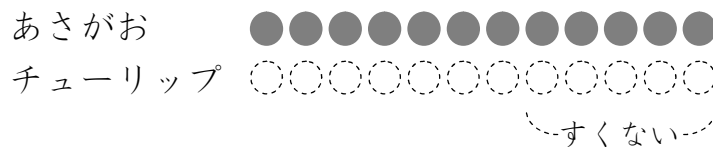
しき

$$11 + 5 = 16$$

こたえ

16こ

- 5 あさがおを 12ほん うえました。チューリップは、あさがお  
より 5ほん すくなく うえました。  
チューリップは なんほん うえましたか。



しき

$$12 - 5 = 7$$

こたえ

7ほん