

16 なんじなんぷん

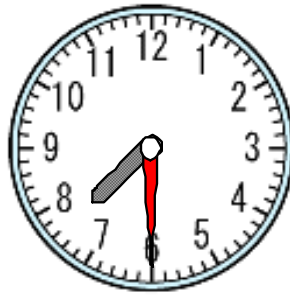
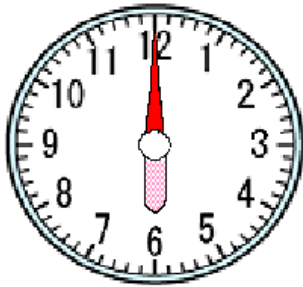
ねん		くみ		なまえ	
----	--	----	--	-----	--

1 したのとけいをよみましょう。

(1)

(2)

(3)



(6じ)

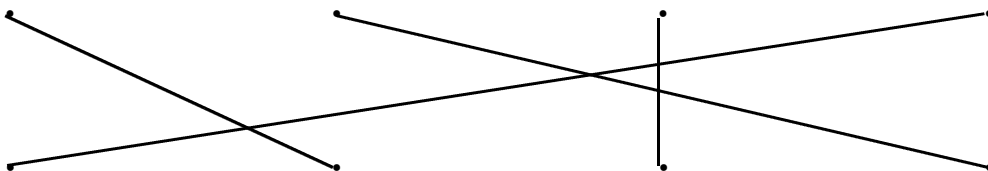
(7じ30ぷん)

(11じ50ぷん)

とけいのよみかたはみじかいはりで「〇じ」をよみます。

ながいはりで「〇ぷん」をよみます。

2 せんでむすびましょう。



6じ38ぷん

3じ51ぷん

9:24

8:14

ながいはりの1めもりは1ぷんです。