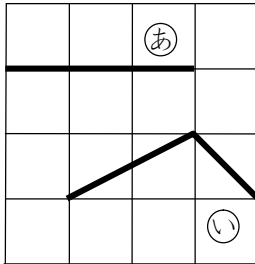


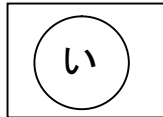
9 ながさ					
ね ん		く み		なまえ	

1 ㊦と㊧で、どちらがながいでしょう。

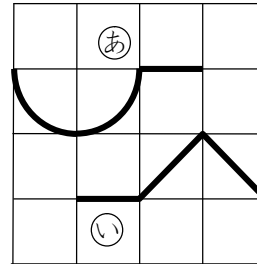
(1)



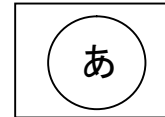
こたえ




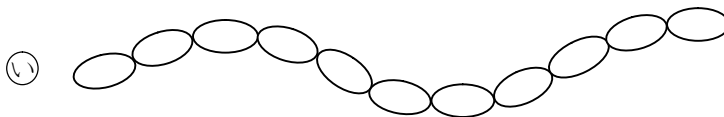
(2)



こたえ



2 ○をつなぎました。いちばんながいのはどれでしょう。また、いちばんみじかいのはどれでしょう。

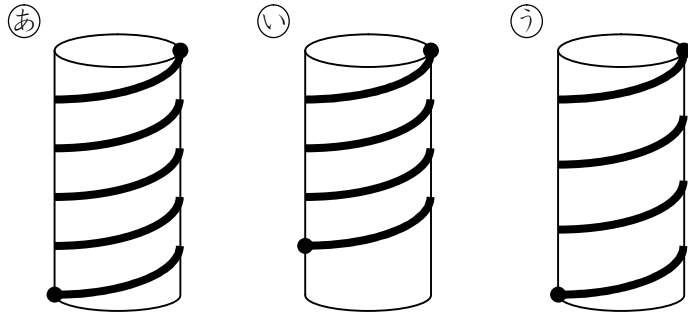


こたえ

いちばんながいのは **㊨** , いちばんみじかいのは **㊧**

○が、**㊦**には12こ、**㊧**には11こ、**㊨**には14こあります。

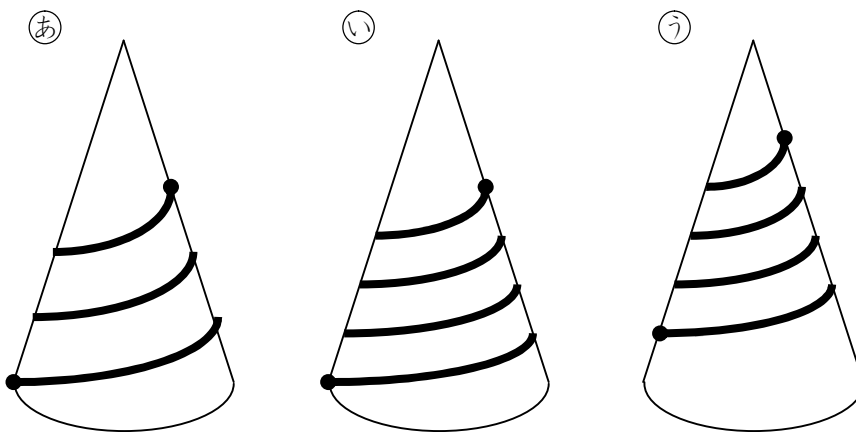
- 3 つみきに ひもを まきました。  
いちばん ながい ひもは どれでしょう。  
つみきは ぜんぶ おなじです。



こたえ あ

- (あ) は, (い) より ながく なります ( (あ) は, 5かいまきですが, (い) は, 4かいまきです)。  
(あ) は, (う) より ながく なります ( (あ) は, 5かいまきですが, (う) は, 4かいまきです)。  
だから, (あ) が, いちばん ながく なります。

- 4 つみきに ひもを まきました。  
いちばん ながい ひもは どれでしょう。  
つみきは ぜんぶ おなじです。



こたえ い

- (い) は, (あ) より ながく なります ( (い) は, 4かいまきですが, (あ) は, 3かいまきです)。  
(い) は, (う) より ながく なります ( (い) は, ふといところを 4かい, (う) は, ほそいところを 4かい まいています)。  
だから (い) が, いちばん ながく なります。