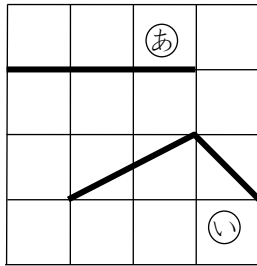


5 どちらがながい③

ね ん		く み		な ま え	
--------	--	--------	--	-------------	--

1 ㉑と㉒で、どちらがながいでしょう。

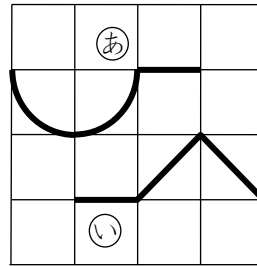
(1)



こたえ



(2)



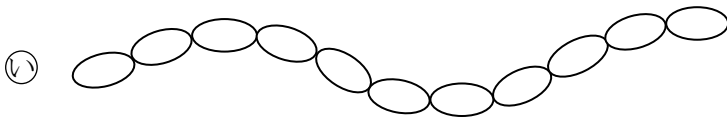
こたえ




2 ○をつなぎました。いちばんながいのはどれでしょう。また、いちばんみじかいのはどれでしょう。



※㉑は○が12こ。



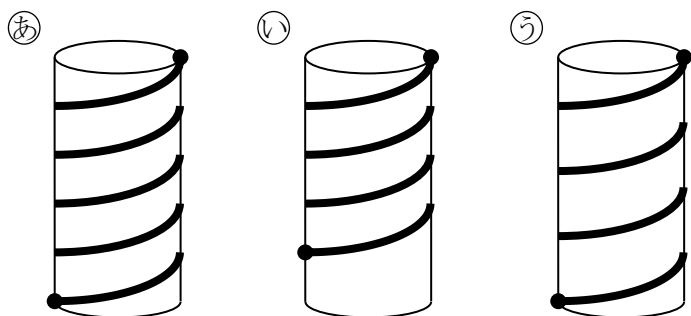
※㉒は○が11こ。



※㉓は○が14こ。

こたえ いちばんながいのは ㉓ , いちばんみじかいのは ㉒

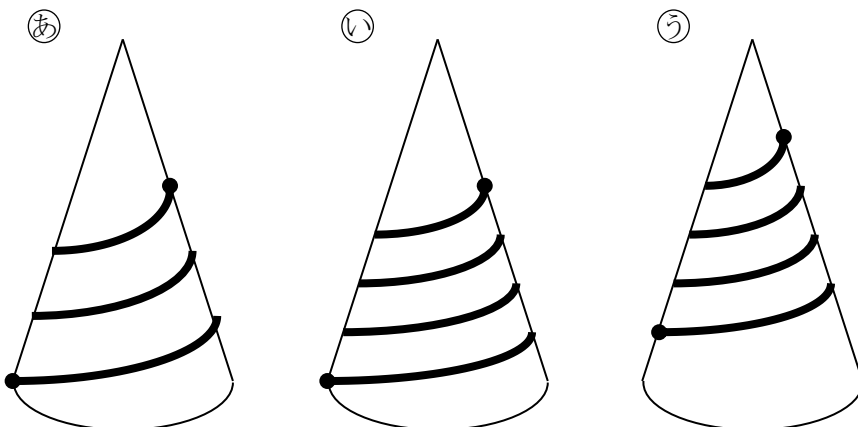
- 3 つみきに ひもを まきました。  
いちばん ながい ひもは どれでしょう。  
つみきは ぜんぶ おなじです。



こたえ  あ

※あはいより ながく なります (あは 5かいまき, いは 4かいまき)。  
あはうより ながく なります (あは 5かいまき, うは 4かいまき)。  
ですから, あが いちばん ながく なります。

- 4 つみきに ひもを まきました。  
いちばん ながい ひもは どれでしょう。  
つみきは ぜんぶ おなじです。



こたえ  い

※いあより ながく なります (いは 4かいまきですが, あは 3かいまき)。  
いはうより ながく なります (いは ふといところを 4かいまき, うは ほそいところを 4かいまき)。  
ですから, いが いちばん ながく なります。