




4 のこりはいくつ ちがいはいくつ②

ね ん		く み		な ま え	
--------	--	--------	--	-------------	--

1 しきと こたえを かきましょう。

(1) ねこが 8ひき います。そのうち 5ひき にげて しまいました。
のこった ねこは なんびき ですか。




[し き]

$$8 - 5$$

[こたえ]

3びき

(2) ちょうと とんぼの かずの ちがいは いくつ ですか。



[し き]

$$7 - 4$$

[こたえ]

3

2 ひまわりの はなが 9ほん あります。そのうち 2ほん ともだちに
あげました。

ひまわりの はなは なんぼん のこって いますか。

[し き]

$$9 - 2$$

[こたえ]

7ほん

- 3 あかい ふうせんが 4こ, きいろい ふうせんが 6こ あります。
きいろい ふうせんは あかい ふうせんより なんこ おおいでしょう
か。

[し き]

$$6 - 4$$

[こたえ]

2こ

- 4 けいさんを しましょう。

(1) $8 - 2 = 6$

(2) $5 - 2 = 3$

(3) $9 - 8 = 1$

(4) $7 - 6 = 1$

(5) $10 - 7 = 3$

(6) $10 - 1 = 9$


- 4 えを みて もんだいに こたえましょう。

- (1) りんごは なんこ ありますか。

6こ

- (2) めろんは なんこ ありますか。

10こ



- (3) りんごと めろんでは どちらが どれだけ おおいですか。

[し き]

$$10 - 6$$

[こたえ]

(めろん) のほうが, (4) こ おおい。