



### 3 あわせていくつ ふえるといくつ②

ね ん		く み		な ま え	
--------	--	--------	--	-------------	--

1 あわせていくつになりますか。

(1)  と 



[しき]  $4 + 1 = 5$

[こたえ]  $5$  こ

(2)  と 

[しき]  $3 + 3 = 6$


[こたえ]  $6$  ひき

(3)  と 

[しき]  $2 + 5 = 7$

[こたえ]  $7$  つ

2 ふえると いくつに なりますか。



[しき]

3

+

2

=

5

[こたえ]

5

ひき

3 たしざんを しましょう。

(1)  $8 + 2 = 10$

(2)  $4 + 4 = 8$

(3)  $2 + 7 = 9$

(4)  $5 + 4 = 9$

(5)  $0 + 8 = 8$

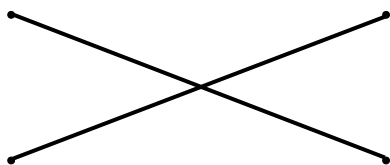
(6)  $0 + 0 = 0$

4 こたえが おなじになる かあどを せんで むすびましょう。

$3 + 7$

$5 + 1$

$7 + 0$



$4 + 2$

$6 + 4$

$1 + 6$

5 ゆきえさんは えんぴつを 7ほん もっています。

こうやさんは えんぴつを 3ほん もっています。

あわせると えんぴつは なんほんに なりますか。

[しき]  $7 + 3$

こたえ ( 10ほん )