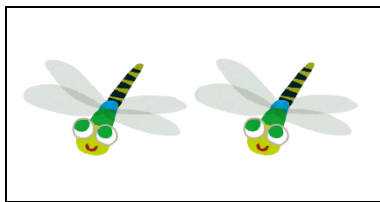





# 1 なかまづくりと かず②

ね ん		く み		な ま え	
--------	--	--------	--	-------------	--

1 まえと うしろを あわせると いくつになりますか。□に あう かずを かきましょう。




と




で

5




と




で

8



と




で

6




と




で

8


2 あと いくつで 8 になりますか。



4



2



3

3 あと いくつで 10 になりますか。□の なかに かずを かきましょう。

(れい) □ 9 と □ 1 で □ 10

(1) □ 5 と □ 5 で □ 10

(2) □ 3 と □ 7 で □ 10

4 □に あてはまる かずを かきましょう。

(1) 9は 2と □ 7 をあわせた かず です。

(2) □ 6 と 1を あわせると 7になります。