

「算数チャレンジ大会（算チャレ）2019」予選問題

学年	年	組	組	氏名	
----	---	---	---	----	--

2 次の問いに答えなさい。

1 次の□にあてはまる数を求めなさい。

(1)  $9\ 3\ 7\ 6\ 2\ \text{cm} - 0.5\ 9\ 4\ 8\ \text{km} = \square\ \text{m}$

(2)  $4\ \text{kg} - 7\ 3\ 0\ \text{g} - 2.2\ \text{kg} = \square\ \text{kg}$

2 ある数を3で割ったら、商が9で、あまりが2でした。ある数を求める式を、下のアからエまでの中から1つ選び、記号で答えなさい。

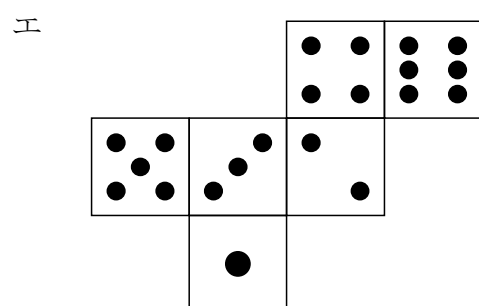
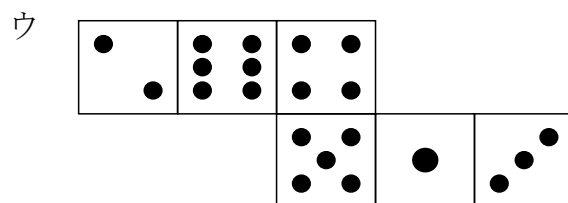
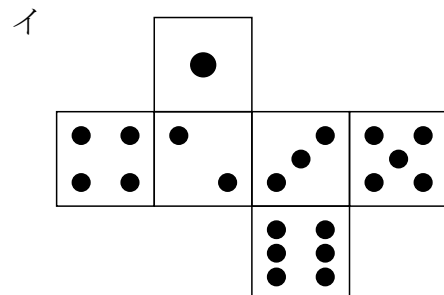
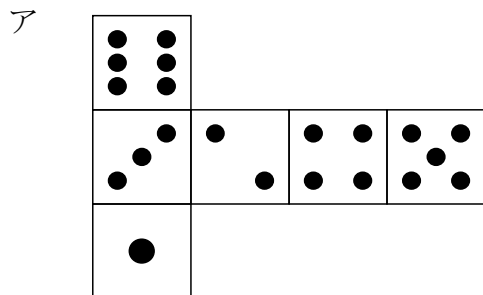
ア  $3 \times 9 + 2$

イ  $3 \times 9 - 2$

ウ  $9 \div 3 + 2$

エ  $9 \div 3 - 2$

3 さいころは、向かい合う面の目の和が7になるように1から6の目が配列されて作られています。さいころの展開図として正しいものを、下のアからエまでの中からすべて選び、記号で答えなさい。



4 下の表は、利府町の面積と人口を表したものです。人口密度を求めなさい。なお、答えは四捨五入して、上から2けたのがい数で答えなさい。

人口 (人)	面積 (km <sup>2</sup> )
35488	44.75

※人口は、平成31年4月1日現在