


「算数チャレンジ大会（算チャレ）2019」本選問題


学年	年	組	組	氏名	
----	---	---	---	----	--

問題 4

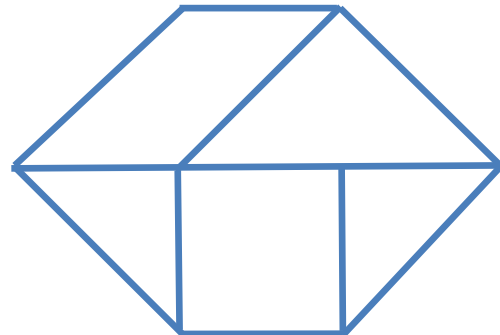
与えられた図形を組み合わせて、決められた形を作るパズルをタングラムといいます。
 下の5つの図形を組み合わせて、図1の形を作ると、5つの図形の組み合わせ方は、例えば図2のようになります。



<図1>



<図2>



では、5つの図形を組み合わせて、図3の形を作るとき、5つの図形の組み合わせ方はどのようになるか答えなさい。

- ・ 5つの図形は、裏返して使っても構いません。
- ・ 問題の袋に入っている図形を使って考えて構いません。
- ・ 答えは、<図2>のように5つの図形の形、組み合わせ方がわかるようにかくこと。
- ・ 図形の形、組み合わせ方がきちんと分かるようにかいていれば、ずれやゆがみがあっても正解とします。

<図3>

