

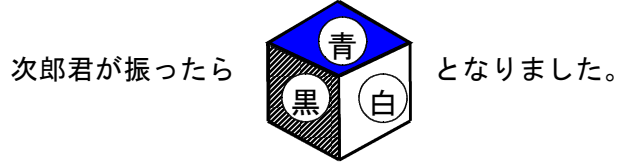
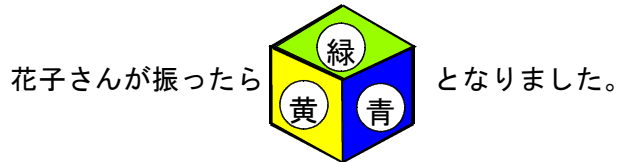
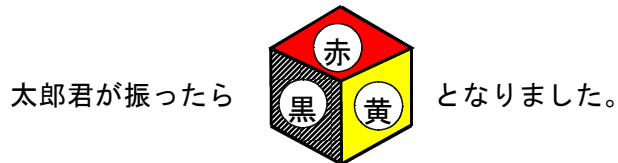
「算数チャレンジ大会（算チャレ）2017」本選問題

学年	年	組	組	氏名	
----	---	---	---	----	--

問題 2

次の問いに答えなさい。答えは の中に書きなさい。

1 6つの面が赤、黄、青、緑、黒、白でできているサイコロがあります。



赤い面の向かい側の面は何色が答えなさい。

2 3つの荷物があります。2つずつ重さを量ったら、175g、275g、370gでした。それぞれの重さは何gか求め、軽い順に答えなさい。

一番軽い	真ん中	一番重い
g	→	g