

文字と式

文字を使って式に表そう

学年

組

氏名

1 次の場面を表す式を考えましょう。

としゆきさんは、280円のプリンを x 個買って、50円の箱に入れてもらいました。

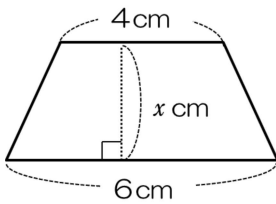
(1) 代金を y 円として、代金を求める式をかきましょう。
(式)

(2) 代金が2290円するとき、プリンを何個買ったことになりませんか。
式と答えをかきましょう。
(式)

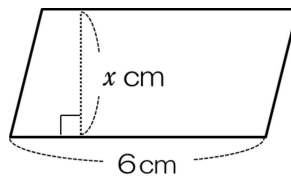
答え _____

2 次の式を見て、考えましょう。

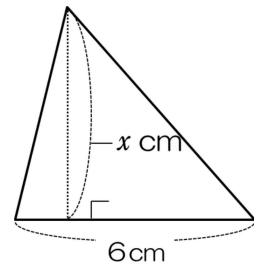
図形の面積を $y\text{cm}^2$ とするとき、 $6 \times x \div 2 = y$ は、どの図形の面積を表す式でしょうか。図形の番号を選んで、理由をかきましょう。



①



②



③

◎いろいろな図形の求め方を、 x や y を使って、表してみよう。