

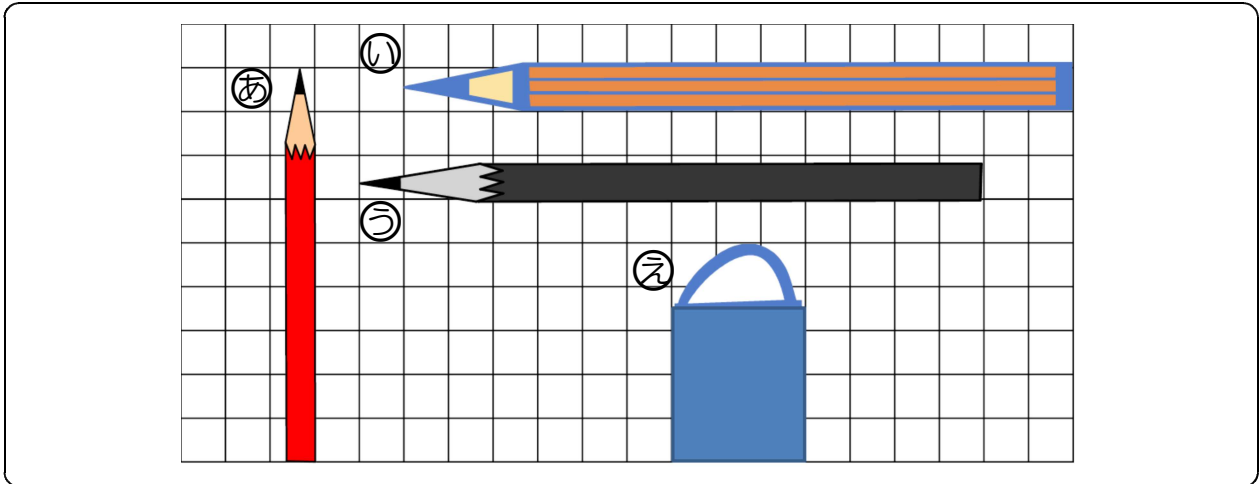
## 2がっき たしかめもんだい

ねん

くみ

なまえ

1 ながさを しらべましょう。



(1) (a), (i), (u), (e) の ながさは ますで いくつぶんですか。

(a) は ますの \_\_\_\_\_ ぶんの ながさ。

(i) は ますの \_\_\_\_\_ ぶんの ながさ。

(u) は ますの \_\_\_\_\_ ぶんの ながさ。

(e) は ますの \_\_\_\_\_ ぶんの ながさ。

(2) (i) と (u) の ながさを くらべます。

どちらが なんます ぶん ながい ですか。

(しき)

\_\_\_\_\_

(こたえ)

\_\_\_\_\_

2 もんだいに こたえましょう。

りんごが 8つ あります。 2つ たべました。 そのあと、  
ともだちに 1つ あげました。 りんごは いくつに なりましたか。

1つの しきに して こたえを かきましょう。

(しき)

\_\_\_\_\_

(こたえ)

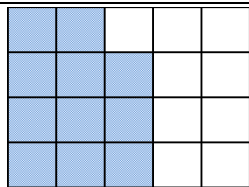
\_\_\_\_\_

3 もんだいに こたえましょう。

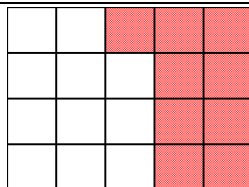
9-5+3のしきに なるような もんだいを つくりましょう。

\_\_\_\_\_  
\_\_\_\_\_

4 ひろさを くらべましょう。



みのるさん



まちこさん

\*いろが ついている ところが  
じぶんの ひろさです。

(1) ますの かずで いくつぶん ですか。

みのるさんは ますの \_\_\_\_\_ ぶんの ひろさ。

まちこさんは ますの \_\_\_\_\_ ぶんの ひろさ。

(2) どちらが なんます ぶん ひろいですか。

(しき)

\_\_\_\_\_

(こたえ)

\_\_\_\_\_