



1がっき たしかめもんだい

ねん


くみ

なまえ

1 バスと とらっくの えをみて かんがえましょう。

 は  より なんだい おおいですか。

こたえは 「～は ……より なんだい おおい」の かきかたで かきましょう。



(しき)

(こたえ)

2 $7-3=4$ の しきに なる おはなしを かきましょう。

おはなしと えを かきましょう。


おはなし

え

3 とまとの かずを ようびごとに まとめます。

○わかること

げつ か すい・もく・きん



○ひんと

すい・・・げつ よりも 2こ おおい。
 もく・・・か よりも 2こ おおい。
 きん・・・すい よりも 3こ おおい。

(1) とまとの かずを もとめます。しきと ことえを かきましょう。

①すいようび

(しき)

(ことえ)

②もくようび

(しき)

(ことえ)

③きんようび

(しき)

(ことえ)

(2) とまとの かずの ぶんだけ いろを ぬりましょう。

○	○	○	○	○
○	○	○	○	○
○	○	○	○	○
○	○	○	○	○
○	○	○	○	○
○	○	○	○	○
○	○	○	○	○
○	○	○	○	○

げつ か すい もく きん

○いろを ぬるときは
 したから じゅんに
 ぬりましょう。